



# Projet Circonscription

Envoi n°3


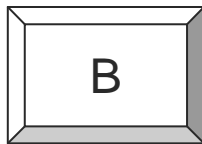
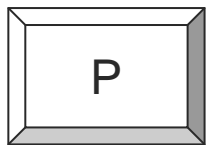
Niveau CE2



Dorian a gardé toutes les bougies de ses gâteaux d'anniversaire.  
Depuis son premier anniversaire jusqu'à aujourd'hui, il a 120 bougies.  
Quel est l'âge de Dorian ?

## Niveau CM1

Les commerçants d'une rue ont fait peindre leur nom sur leur vitrine :  
chaque lettre coûte une somme différente :



PAUL a payé 30 €

SEBASTIEN a payé 96 €

PAULINE a payé 47 €

BASTIEN a payé 71 €

PAULE a payé 40 €

Combien a payé INES pour faire peindre son nom ?

## Niveau CM2



Le nez de Pinocchio mesure 5 cm de long. Quand Pinocchio dit un mensonge, la Fée bleue allonge son nez de 3 cm, mais quand il dit la vérité, la Fée lui raccourcit de 2 cm.

A la fin de la journée, Pinocchio a dit 7 mensonges et son nez mesure 20 cm de long.

Combien de fois Pinocchio a-t-il dit la vérité au cours de la journée ?